

Preguntas *Microeconomía* (con respuestas)

1 Mercados, demanda y oferta

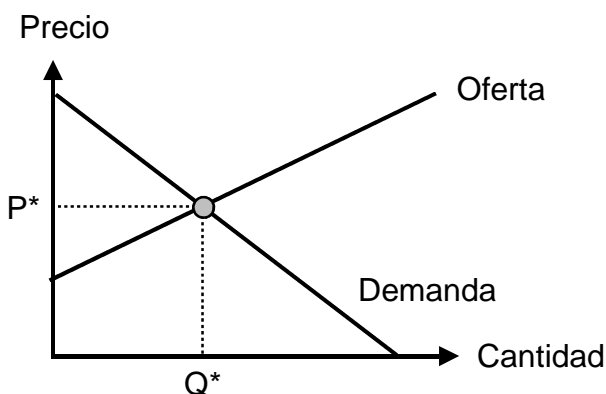
01 Precio y cantidad 1

Precio	Demanda	Oferta
0	100	0
1	80	30
2	60	60
3	40	90
4	20	120
5	0	150

- ① Represente gráficamente la demanda y la oferta.
- ② Describa la situación si
 - el precio es 1;
 - el precio es 4.

02 Precio y cantidad 2

Mercado de chocolate



¿Qué ocurre con el precio de equilibrio P^* y con la cantidad de equilibrio Q^* si

- ① el precio de cacao desciende;
- ② la gente consume menos calorías por conciencia de la salud;
- ③ tanto el precio de cacao desciende como la gente consume menos calorías?

03 Precio y cantidad 3

$$\begin{aligned} \text{Demanda} &= 2200 - 200P && (P = \text{Precio}) \\ \text{Oferta} &= 800 + 500P \end{aligned}$$

Calcule el precio de equilibrio y la cantidad de equilibrio.

04 Movimientos contra desplazamientos (curva de demanda)

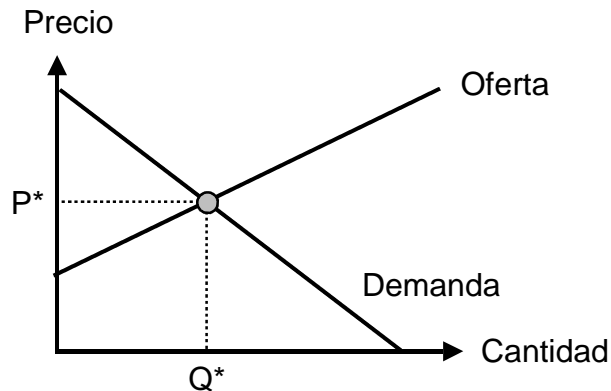
Indique si la siguiente frase es verdadera o falsa y justifique:
"Si el precio de un bien baja, la demanda sube".

05 Desplazamientos en las curvas de demanda y de oferta

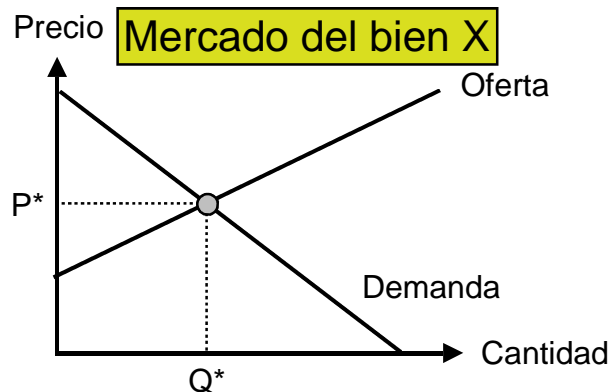
- ¿Cambia la oferta o la demanda?
 - ¿Sube o baja la oferta o la demanda?
 - ¿Qué sucede con el precio de equilibrio y con la cantidad de equilibrio?
- ① El bien se pone de moda.
 - ② Los precios de los insumos bajan.
 - ③ Los salarios de los consumidores suben (bien normal).
 - ④ Se introducen impuestos de consumo más altos.

06 Excedente del consumidor y del productor

Muestre el excedente del consumidor y del productor en este mercado:



07 Bienes normales y bienes inferiores



Ahora los salarios de los consumidores bajan. ¿Qué ocurre con el mercado del bien X si

- ① X es un bien normal;
- ② X es un bien inferior?

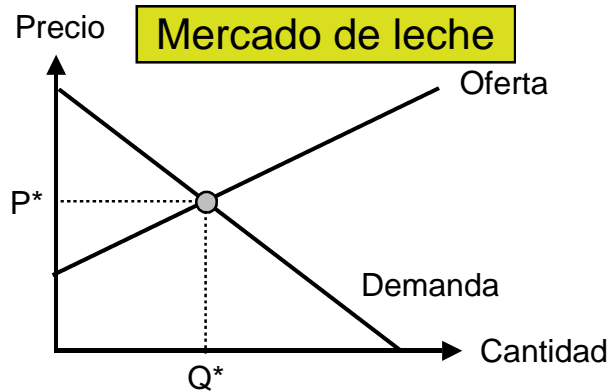
Represente gráficamente sus respuestas.

08 Sustitutos y complementos

Hay una relación entre el bien A y el bien B: A y B pueden ser sustitutos o complementos. Ahora el precio del bien B sube. Represente gráficamente los efectos sobre el mercado del bien A si

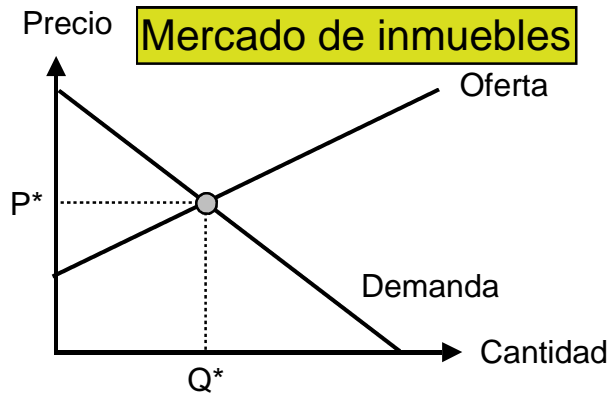
- ① A y B son sustitutos;
- ② A y B son complementos.

09 Precio mínimo



El gobierno introduce un precio mínimo. Represente gráficamente los efectos sobre el mercado de leche.

10 Precio máximo



El gobierno introduce un precio máximo. Represente gráficamente los efectos sobre el mercado de inmuebles.

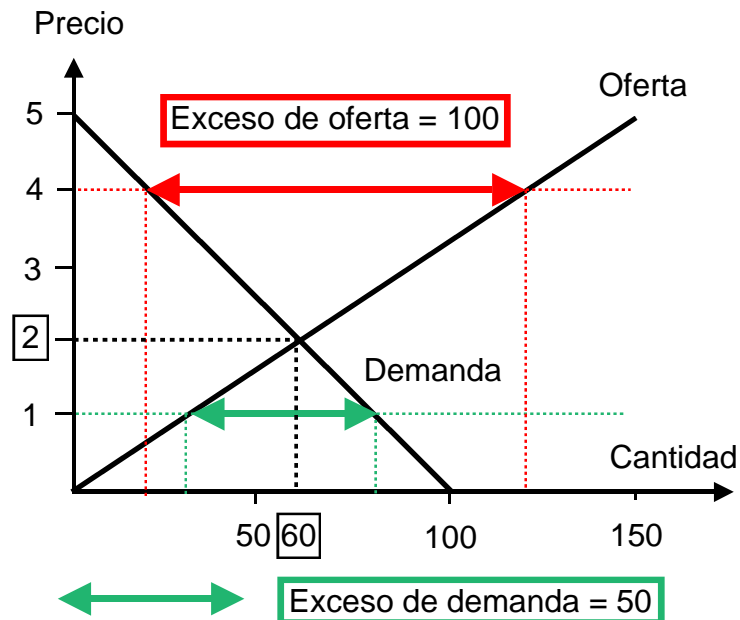
→ [Repuestas. ¡Haga clic aquí!](#)

Respuestas Microeconomía

1 Mercados, demanda y oferta

01 Precio y cantidad 1

①



- ②
- Precio = 1 Exceso de demanda = 50
 - Precio = 4 Exceso de oferta = 100

02 Precio y cantidad 2

- ① El precio de cacao desciende: Oferta y cantidad suben, precio desciende
 ② La gente consume menos: Demanda, precio, cantidad descienden
 ③ Suceden tanto ① como ②: Precio desciende, cantidad puede subir o descender (o estar estable)

03 Precio y cantidad 3

Equilibrio: Demanda = Oferta
 $2200 - 200P = 800 + 500P$
 $1400 = 700P$
 $P \text{ (Precio)} = 2$
 $Q \text{ (Cantidad)} = 1800$

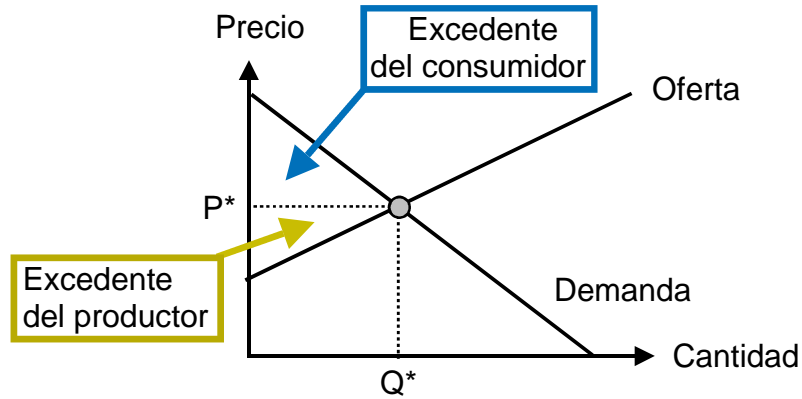
04 Movimientos contra desplazamientos (curva de demanda)

La frase es falsa. Si el precio de un bien baja, la **cantidad demandada** sube (= movimiento a lo largo de la curva de demanda).

05 Desplazamientos en las curvas de demanda y de oferta

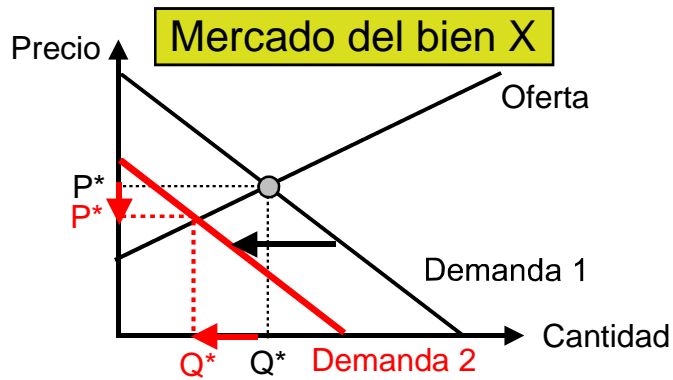
	①	②	③	④
• Oferta (O) o demanda (D)	D	O	D	O
• Sube (s) o baja (b)	s	s	s	b
• Precio (P), cantidad (Q)	P+,Q+	P-,Q+	P+,Q+	P+,Q-

06 Excedente del consumidor y del productor

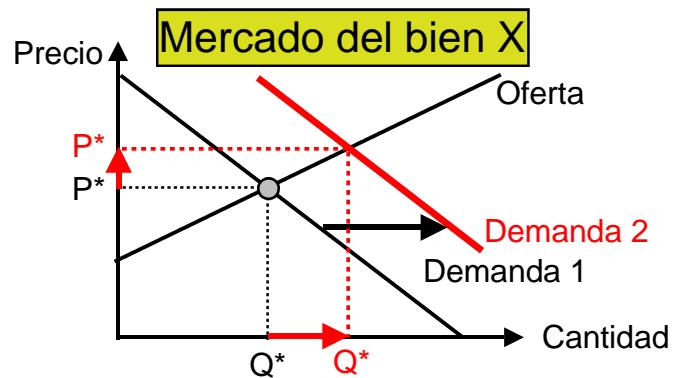


07 Bienes normales y bienes inferiores

① X es un bien normal.

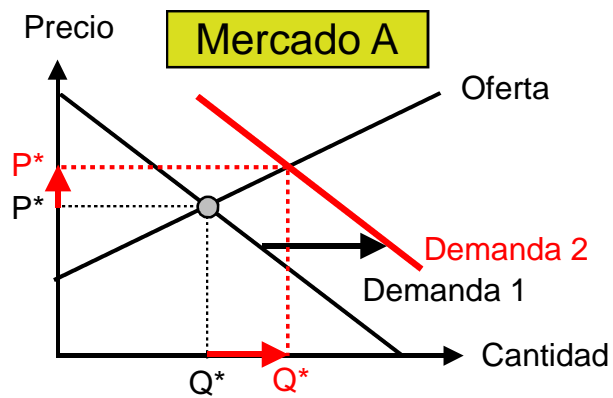


② X es un bien inferior.

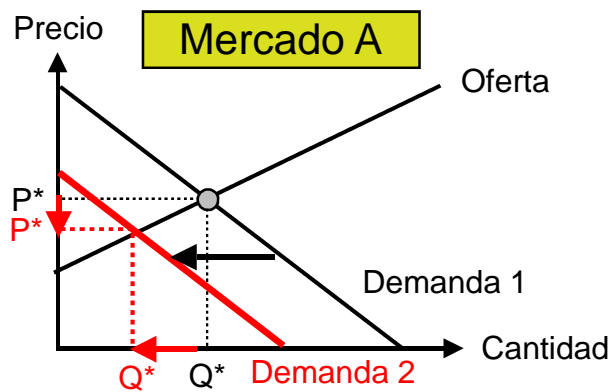


08 Sustitutos y complementos

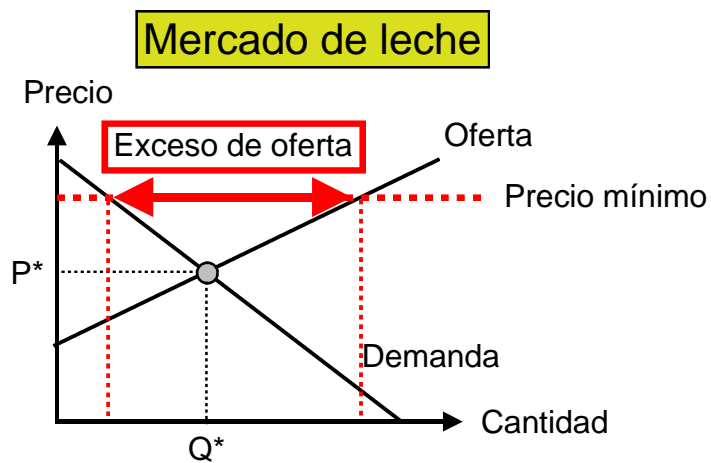
① A y B son sustitutos.



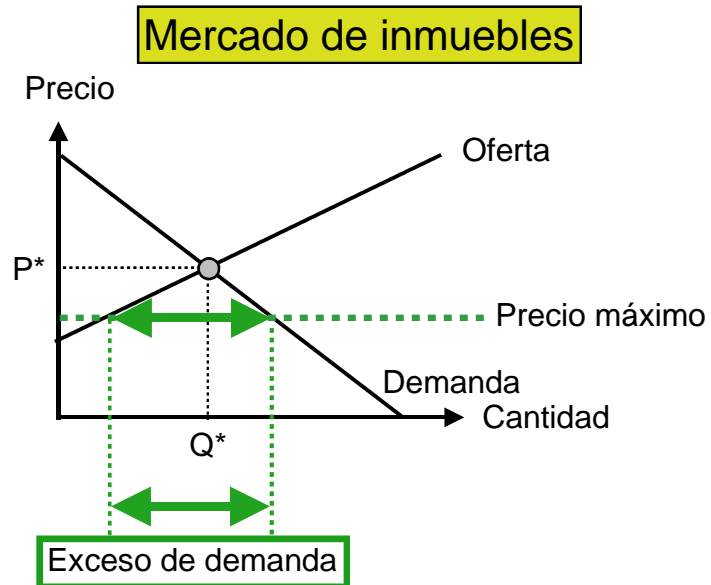
② A y B son complementos.



09 Precio mínimo



10 Precio máximo



→ De vuelta a las preguntas.
¡Haga clic aquí!