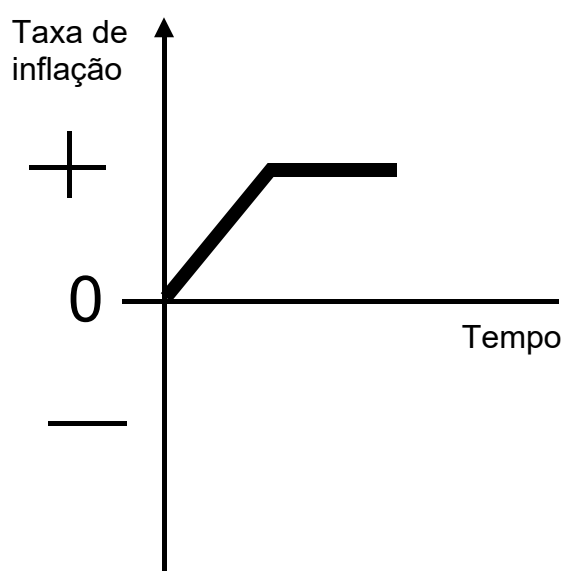
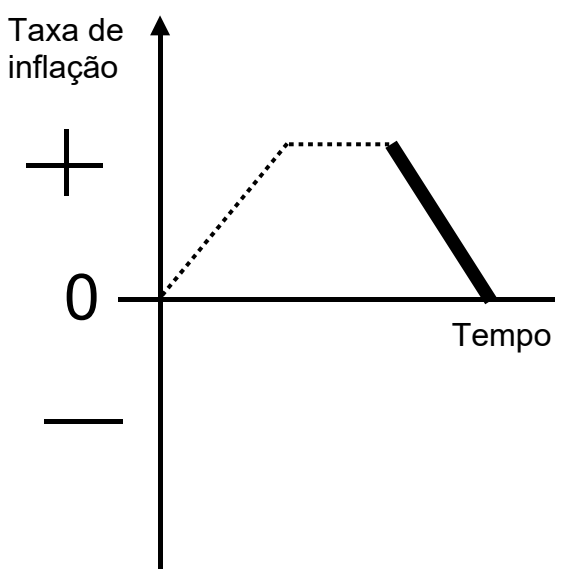
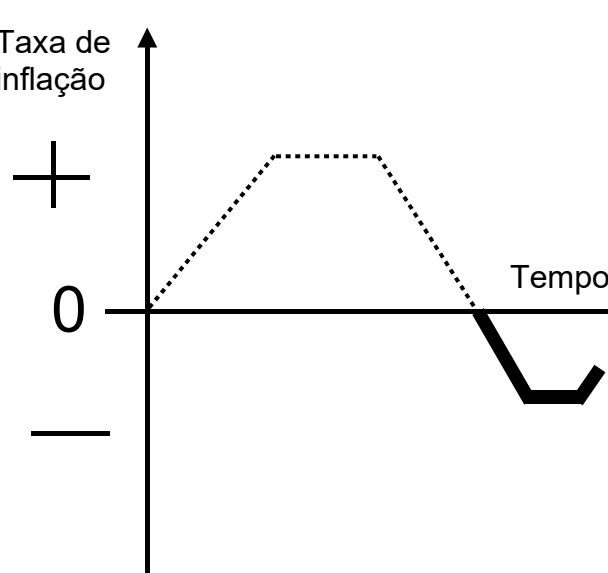


Inflação, desinflação e deflação

1 Inflação	2 Desinflação	3 Deflação
<ul style="list-style-type: none">• A taxa de inflação aumenta ou se mantém constante.• O nível de preços aumenta.	<ul style="list-style-type: none">• A taxa de inflação diminui, mas permanece positiva.• O nível de preços aumenta.	<ul style="list-style-type: none">• A taxa de inflação é negativa.• O nível de preços diminui.
 <p>Gráfico de inflação: Taxa de inflação vs Tempo. A taxa de inflação aumenta linearmente e depois se mantém constante.</p>	 <p>Gráfico de desinflação: Taxa de inflação vs Tempo. A taxa de inflação aumenta linearmente, permanece constante por um tempo e depois diminui linearmente.</p>	 <p>Gráfico de deflação: Taxa de inflação vs Tempo. A taxa de inflação aumenta linearmente, permanece constante por um tempo e depois diminui linearmente, cruzando o eixo zero e tornando-se negativa.</p>