

Exercícios em *macroeconomia* (com soluções)

5 Taxa de câmbio e balanço de pagamentos

01 Taxa de câmbio real

Calcular a taxa de câmbio real:

- Taxa de câmbio no país (\$): $\$1 = \text{€ } 0.79$
- Índice de preços no país (\$) 120, no país (€) 112

02 Vantagem comparativa 1

Os dois países ganham com a especialização e a troca mútua, supondo que não haja tarifas ou custos de transporte?

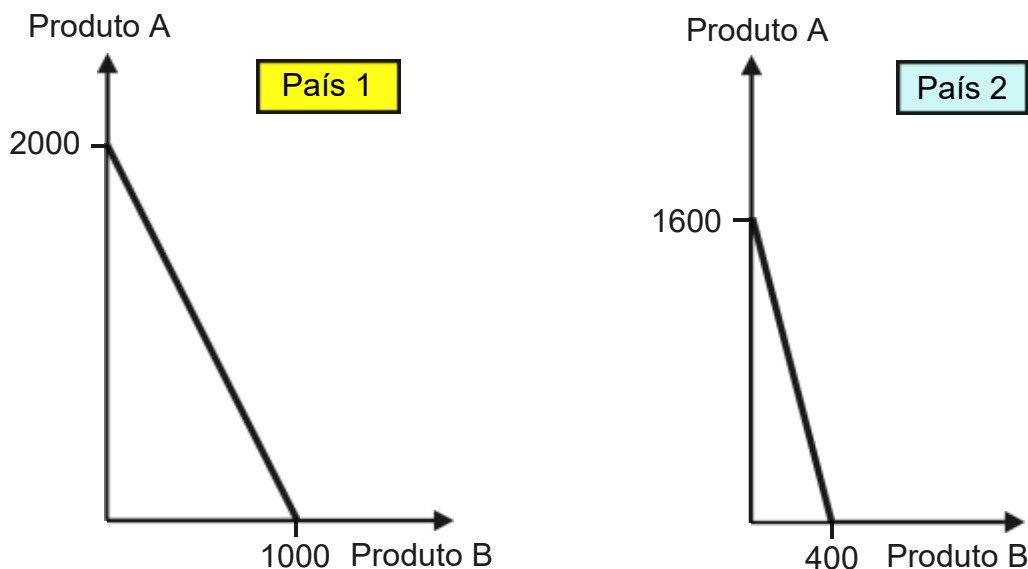
Possibilidades de produção (por dia)

	Produto A	Produto B
País 1	900	1'800
País 2	1200	3'600

03 Vantagem comparativa 2

Os dois países ganham com a especialização e a troca mútua, supondo que não haja tarifas ou custos de transporte?

Possibilidades de produção (por dia)



04 Balanço de pagamentos 1

Partes do balanço de pagamentos dos Estados Unidos da América:

A Conta das transações correntes

A1 Bens

A2 Serviços

A3 Renda

etc.

B Conta financeira, conta capital e erros e omissões


Em que parte do balanço de pagamentos dos Estados Unidos da América os seguintes eventos afetam (Colocar + para entradas, - para saídas de moeda estrangeira).

- ① Um investidor brasileiro compra ações em Wall Street.
- ② Uma empresa americana paga o dividendo a um investidor europeu.
- ③ Um americano voa para Paris para passar três semanas na França.
- ④ Uma empresa americana importa bananas da Costa Rica.

05 Balanço de pagamentos 2

Calcular o número desconhecido (?):

Transações correntes	= - 805
Conta Financeira	= - 700
Conta capital	= + 50
Erros e omissões	= ?

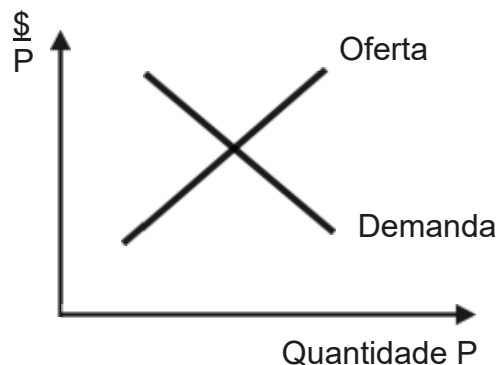


Balanço de pagamentos

06 Taxa de câmbio flexível 1

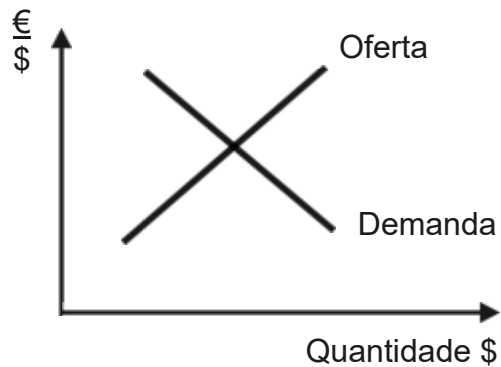
Em um país com moeda P, as taxas de juros aumentam. O que acontecerá com a taxa de câmbio $\frac{\$}{P}$ e com as exportações?

Situação no mercado de câmbio P antes do aumento na taxa de juros:



07 Taxa de câmbio flexível 2

O mercado de câmbio do euro nos Estados Unidos da América é o seguinte:

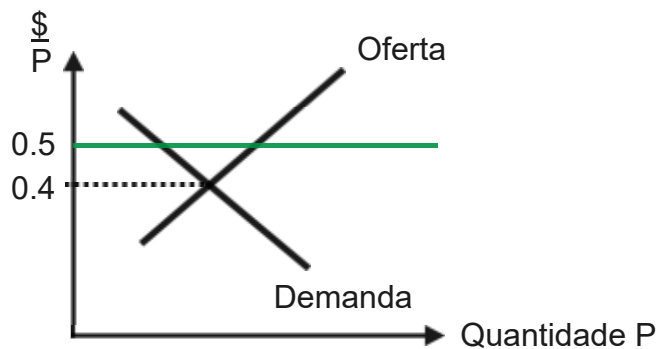


O que acontecerá com o mercado de câmbio se

- ① mais turistas dos países do euro passam suas férias nos EUA;
- ② as importações americanas de países de euro estão diminuindo?

08 Taxa de câmbio fixa

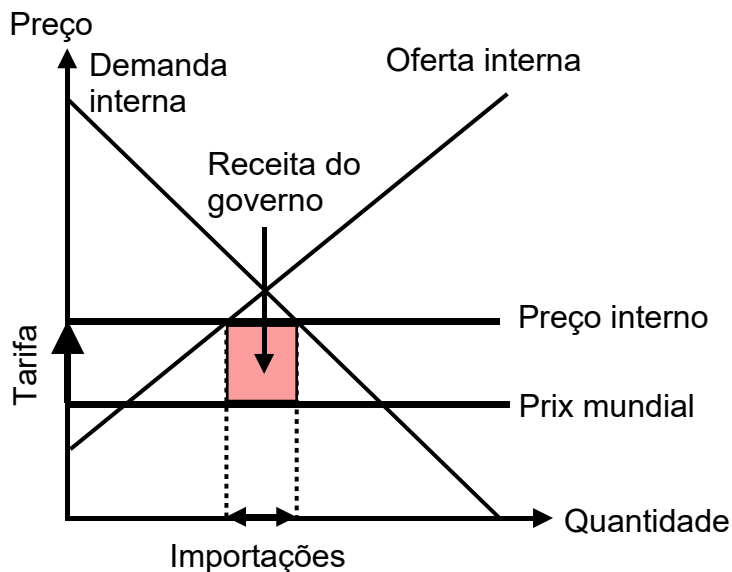
Um país com moeda P tem uma taxa de câmbio fixa em relação ao $\$$ ($\$ 0.5 = P 1$). Devido às condições econômicas desfavoráveis, o P deprecia:



Como restabelecer a paridade de 0.5?

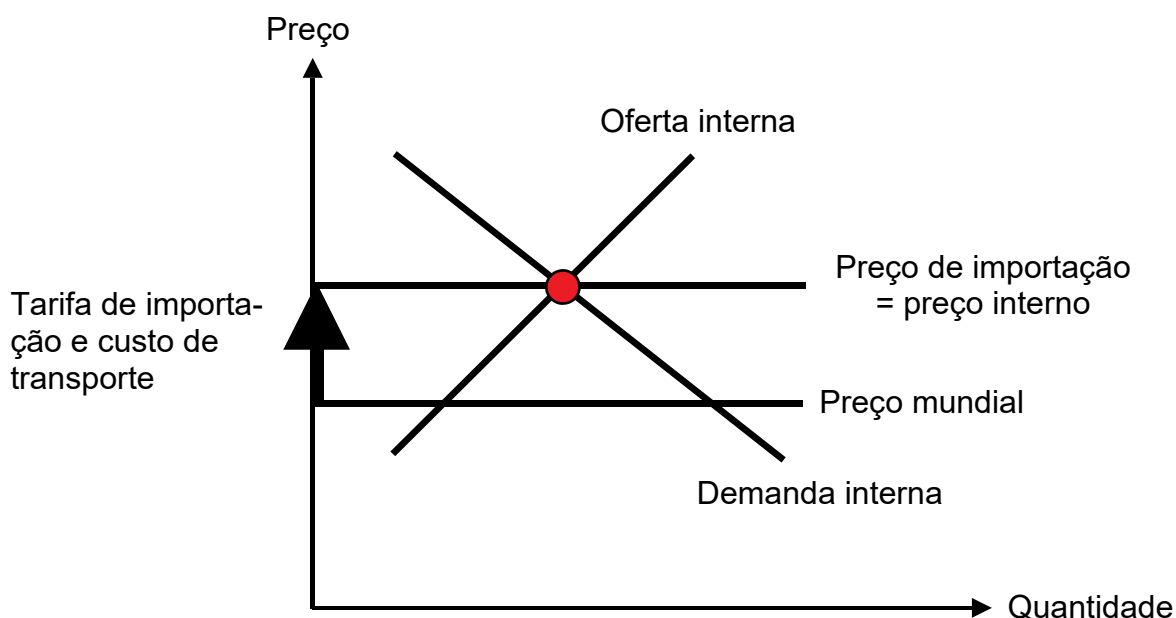
09 **Tarifa de importação 1**

Quem ganha e quem perde no caso de tarifas de importação?



10 **Tarifa de importação 2**

Explicar a situação:



→ **Soluções. Clicar aqui!**

Soluções 'Exercícios em *macroeconomia*'

5 Taxa de câmbio e balanço de pagamentos

01 Taxa de câmbio real

$$\text{Taxa de câmbio real} = \frac{\text{Taxa de câmbio nominal} * \text{Preços internos}}{\text{Preços externos}}$$
$$= \frac{0.79 * 120}{112} = 0.846 \rightarrow \text{Taxa de câmbio real: } \$ 1 = € 0.846$$

02 Vantagem comparativa 1

	Custo de oportunidade	
	Produto A	Produto B
País 1	2 B	1/2 A
País 2	3 B	1/3 A

O país 1 se especializa na produção de A (vantagem comparativa porque $2 B < 3 B$) enquanto o país 2 se especializa na produção de B (vantagem comparativa porque $1/3 A < 1/2 A$). O país 1 exporta A para o país 2 de onde importa B.

03 Vantagem comparativa 2

	Custo de oportunidade	
	Produto A	Produto B
País1	1/2 B	2 A
País 2	1/4 B	4 A

O país 1 se especializa na produção de B (vantagem comparativa porque $2 A < 4 A$) enquanto o país 2 se especializa na produção de A (vantagem comparativa porque $1/4 B < 1/2 B$). O país 1 exporta B para o país 2 de onde importa A.

04 Balanço de pagamentos 1

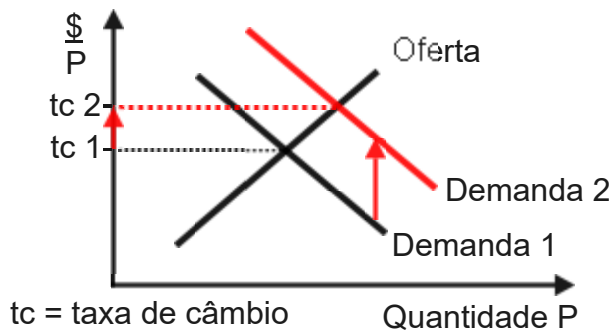
- ① B +
- ② A3 -
- ③ A2 -
- ④ A1 -

05 Balanço de pagamentos 2

Conta Financeira = Transações correntes + conta capital + erros e omissões

$$- 700 = - 805 + 50 + x$$
$$x = 55$$

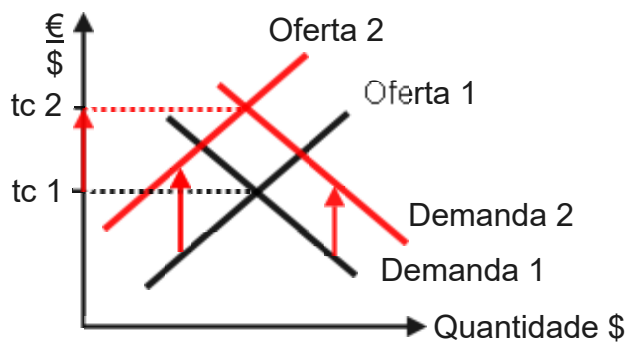
06 Taxa de câmbio flexível 1



A demanda e a taxa de câmbio aumentam. As exportações diminuem devido à apreciação da moeda P.

07 Taxa de câmbio flexível 2

Mercado de câmbio dos EUA:

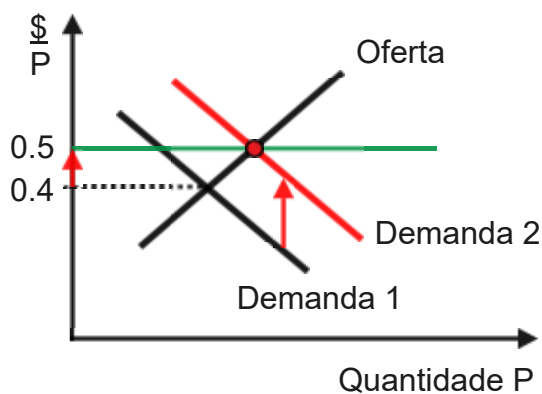


- ① A demanda de \$ e a oferta de € aumentarão.
- ② A oferta de \$ e a demanda de € diminuirão.

A taxa de câmbio (tc), ou seja, $\frac{\text{€}}{\text{\$}}$, aumentará em qualquer caso.

08 Taxa de câmbio fixa

A paridade de 0,5 pode ser restabelecida aumentando a demanda de P, por exemplo, através do aumento das taxas de juros.



09

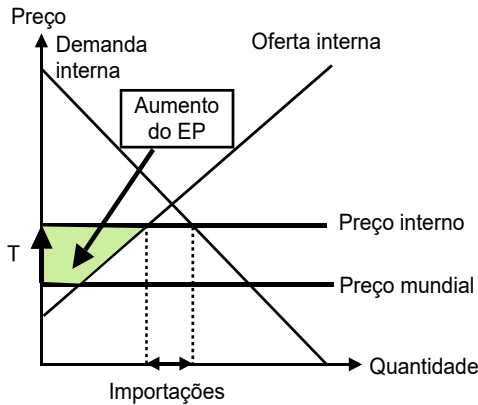
Tarifa de importação 1

(T = Tarifa de importação

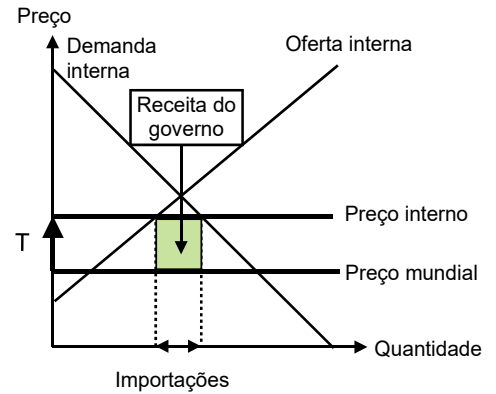
EP = Excedente do produtor / EC = Excedente do consumidor)

Ganhadores de tarifas

Produtores internos

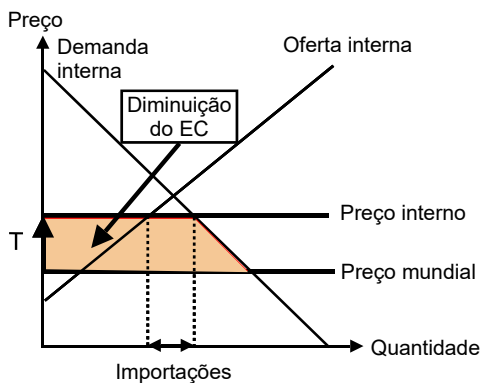


Governo

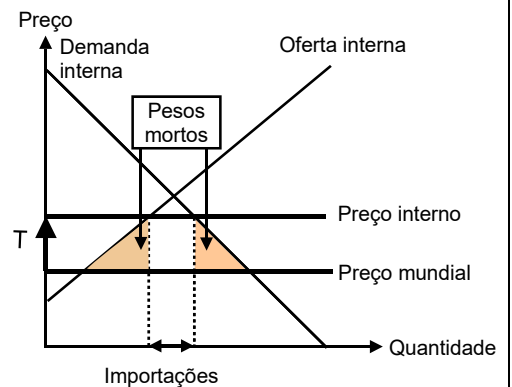


Perdedores de tarifas

Consumidores internos



Peso morto



10

Tarifa de importação 2

O preço de importação é tão alto como o preço de equilíbrio (sem comércio exterior). Portanto, não vale a pena importar. As taxas de importação e os custos de transporte "protegem" assim os produtores internos.

→ Voltar aos exercícios. Clicar aqui!